

Sveučilište u Zagrebu Agronomski fakultet
STUDIJ KRAJOBRAZNA ARHITEKTURA

RAZREDBENI ISPIT –
(I.-rok – ak. god. 2009./2010.)

CRTANJE

ZADATAK 2.

Model kojeg trebate nacrtati nalazi se ispred Vas na stolu.
Crtež bi morao biti veći od Modela.
Pri crtanju Modela obratite pozornost na perspektivu,
proporcije i grafiku .

Crtajte na glatkoj strani papira.

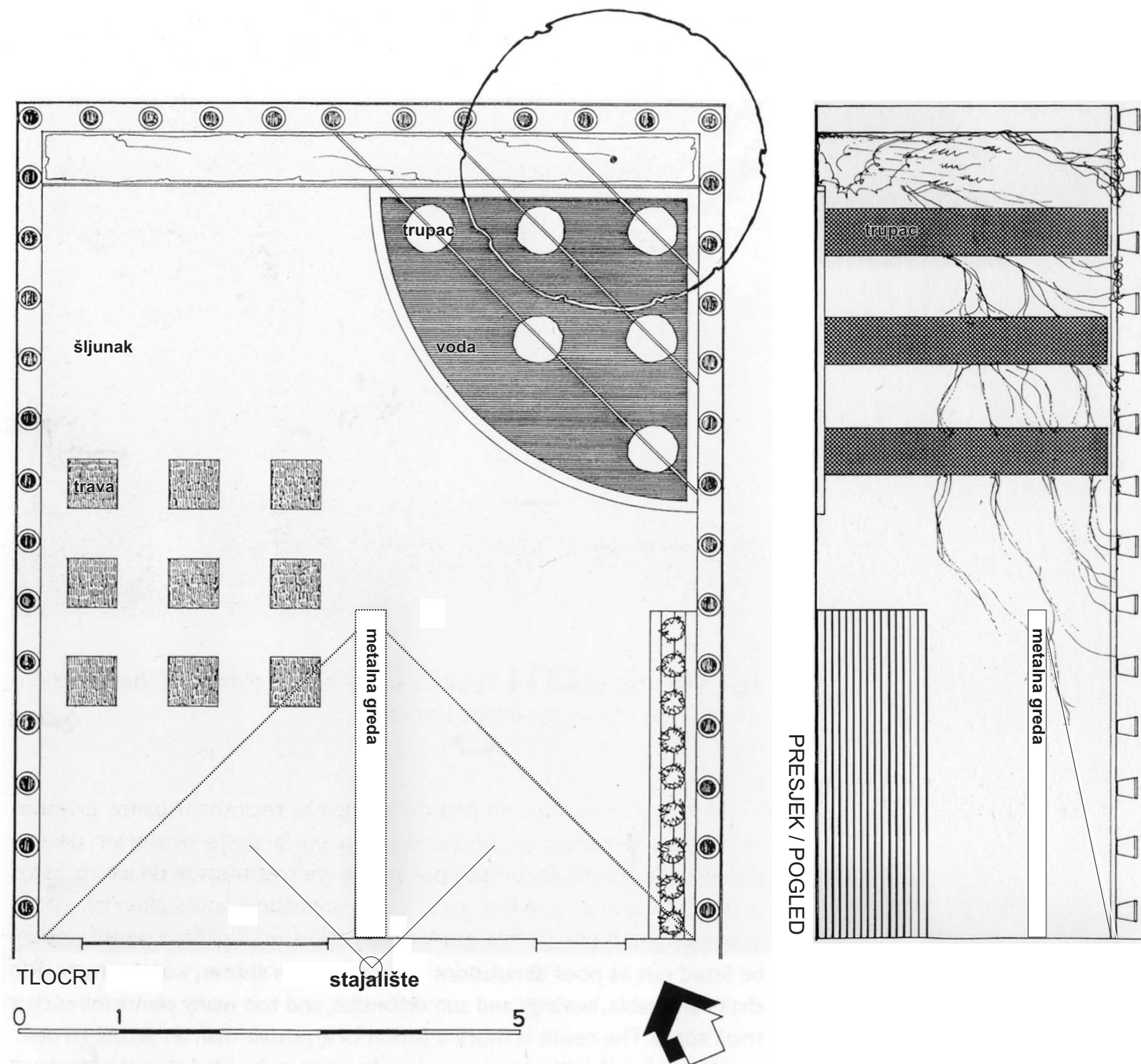
Hvala!

III PROVJERA LIKOVNIH SPOSOBNOSTI

Nacrtajte prema priloženom tlocrtu, presjeku i fotografiji centralnu perspektivu
atrijskog dvorišta.

Stajalište je zadano, a očiste u visini očiju čovjeka koji stoji (cca 150 cm).

Hvala!





Dodatna provjera posebnih znanja, vještina i sposobnosti za
STUDIJ KRAJOBRAZNE ARHITEKTURE
Sveučilište u Zagrebu, Agronomski fakultet
(II. rok ak. god. 2012./2013.)

II PROVJERA LIKOVNIH SPOSOBNOSTI – CRTANJE

Na listu bloka broj V, na glatkoj strani papira, nacrtajte olovkom u perspektivi
Ljetnikovac koji je pred Vama.
U motiv uključite i dio krajobraza.
Crtajte linearno i tonski.

Hvala!



**RAZREDBENI ISPIT
STUDIJ KRAJOBRAZNA ARHITEKTURA
Agronomski fakultet Sveučilišta u Zagrebu,
(I. rok ak. god. 2007./2008.)**

Opis zadatka a

- 1.) PROMOTRITE SLIKE ZATIM IZDVOJITE (EKSTRAHIRAJTE) SVE ONE LINIJE KOJE ZAMJEĆUJETE, NACRTAJTE IH U OZNAČENOM DIJELU ISPOD SLIKE.
- 2.) IZ TOGA ŠTO STE DOBILI POKUŠAJTE SASTAVITI ILI SLOŽITI JEDNU NOVU GRAFIČKU KOMPOZICIJU U OZNAČENOM STUPCU I.
- 3.) U DRUGOM STUPCU, IZ ISTIH (IZDVOJENIH) LINIJA SASTAVITE ILI SLOŽITE DJEČJE IGRALIŠTE. NACRTAJTE TLOCRTNI ILI PERSPEKTIVNI PRIKAZ.

NA POLEDINI OPIŠITE VAŠ PRIJEDLOG UREĐENJA
(NAJMANJE 20 I NAJVIŠE 30 REDAKA).

OPUSTITE SE I POTPUNO PREPUSTITE MAŠTI.



Empty rectangular box for drawing or writing.

Empty rectangular box for drawing or writing.


I.

Large empty rectangular box for drawing or writing.

II.

Large empty rectangular box for drawing or writing.

OPIS PRIČE S PRETHODNE STRANE:



Opis zadatka b

U OVOM STUPCU NACRTAJTE STABLO




**RAZREDBENI ISPIT
STUDIJ KRAJOBRAZNA ARHITEKTURA
Sveučilište u Zagrebu, Agronomski fakultet
(I. rok ak. god. 2008./2009.)**

Zadatak

- A) POMNO POGLEDAJTE SLIKU I IZDVOJITE NAJMANJE SEDAM LIKOVA ILI FORMI I NACRTAJTE IH U **OKVIR 1.**
- B.) IZ TIH LINIJA U **OKVIRU 2.** POKUŠAJTE SLOŽITI JEDNU NOVU GRAFIČKU KOMPOZICIJU.
- C.) TAKOĐER, LIKOVIMA IZ **OKVIRA 1.** PRIDODAJTE ODREĐENU NAMJENU, NA PRIMJER CVJETNJAK, VODENA POVRŠINA, OGRADA, ŽIVICA ITD. IZ TAKO PRIREĐENIH ELEMENATA UREDITE PROSTOR KUĆNOG VRTA I TLOCRTNO GA NACRTAJTE U **OKVIRU 3.**, A PERSPEKTIVNI PRIKAZ NA DRUGOJ STRANI.

NA POLEĐINI JOŠ OPIŠITE VAŠ PRIJEDLOG UREĐENJA KUĆNOG VRTA **NAJMANJE 20, A NAJVIŠE 30 REDAKA).**
I NACRTAJTE U POGLEDU KUĆU I STABLO POKRAJ NJE.




Znate li možda tko je autor ove slike?

OKVIR 1.

OKVIR 2.

OKVIR 3.

OPIS UREĐENJA KUĆNOG VRTA S PRETHODNE STRANE

A large, empty rectangular box with a thin black border, intended for a detailed description of the garden layout from the previous page.

PROSTOR ZA PERSPEKTIVNI PRIKAZ:

A large, empty rectangular box with a thin black border, intended for a perspective drawing of the garden.

NACRTAJTE U POGLEDU KUĆU SA STABLOM

A large, empty rectangular box with a thin black border, intended for a plan view drawing of the house and trees.

Dodatna provjera posebnih znanja, vještina i sposobnosti za
STUDIJ KRAJOBRAZNE ARHITEKTURE
Sveučilište u Zagrebu, Agronomski fakultet
(I. rok ak. god. 2010./2011.)

OKVIR 1 (elementi)

OKVIR 2 (likovne kompozicije)

OKVIR 3 (opis)

A.) ANALIZIRAJTE FOTOGRAFIJU I IZDOJITE ŠTO VIŠE ELEMENATA (LIKOVA, FORMI ILI VRSTA LINIJA) I NACRTAJTE IH U OKVIR 1.

B.) KOMBINACIJOM ODABRANIH ELEMENATA (NAJMANJE TRI ELEMENTA) U OKVIRU 2. POKUŠAJTE SLOŽITI NEKOLIKO NOVIH LIKOVNIH KOMPOZICIJA.

C.) ELEMENTIMA IZ OKVIRA 1. PRIDODAJTE ODREĐENU NAMJENU, NA PRIMJER CVJETNJAK, VODENA POVRŠINA, OGRADA, ŽIVICA ITD. OD TAKO PRIREĐENIH ELEMENATA SLOŽITE NOVU SMISLENU PROSTORNU SITUACIJU (NPR. DJEČJE IGRALIŠTE, KUĆNI VRT ILI SL.) TLOCRT I PERSPEKTIVNI PRIKAZ RJEŠENJA PRIKAŽITE U OKVIRIMA NA DRUGOJ STRANI PAPIRA. TAKOĐER OPIŠITE VAŠ PRIJEDLOG UREĐENJA (NAJMANJE 20, A NAJVIŠE 30 REDAKA) U OKVIRU 3.

Priložena fotografija prikazuje



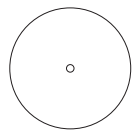
TLOCRT

PERSPEKTIVNI PRIKAZ

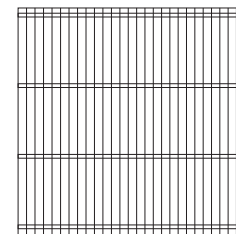
ZA IZRADU ZADATAKA SU NA RASPOLAGANJU SLIJEDEĆI ELEMENTI:

 šišana živa ograda (3-5 komada)


 stol i dvije klupe (3 komada)

 drveće (3-9 komada)


 grmlje (do 30 komada)



pergola (1 komad)




voda (1-2 komada)




zid / zid za penjanje (1 komad)

Zadatak 1 - LIKOVNA KOMPOZICIJA



Iz gore ponuđenih elemenata (bez dodatnih), unutar okvira složite apstraktnu **LIKOVNU KOMPOZICIJU**, tretirajući elemente kao geometrijske likove (kvadrat, pravokutnik, trokut, krug itd.) bez određene praktične namjene.
LIKOVE KORISTITE U ZADANOJ VELIČINI I BROJU !


Zadatak 2 - PROSTOR ZA DJEČJU IGRU



Iz gore ponuđenih elemenata, unutar okvira uredite **PROSTOR ZA DJEČJU IGRU**. Po želji možete dodati još **2 nova elementa** u količini ne većoj od **3 komada**.

ELEMENTE KORISTITE U ZADANOJ VELIČINI I BROJU !


Zadatak 3 - PROSTOR FUNKCIJE PO VLASTITOM IZBORU



Iz gore ponuđenih elemenata, unutar okvira uredite **PROSTOR FUNKCIJE PO VLASTITOM IZBORU**. Po želji možete dodati još **2 nova elementa** u količini ne većoj od **3 komada**.

ELEMENTE KORISTITE U ZADANOJ VELIČINI I BROJU !

PROSTORNI PRIKAZ (perspektivna skica) rješenja iz zadatka 2.



OPIS rješenja iz zadatka 2.

30 redaka teksta

prva polovina pisanim slovima, druga polovica velikim štampanim slovima

